

Tables de multiplication




CALCUL MENTAL
 • Mémoriser une liste de 3 nombres.
 • Multiplication par 4, par 5.

1 Lire et Cléo jouent aux dés multiplicatifs.

On lance 2 dés et on calcule le produit des 2 nombres tirés.

a. Lise lance les dés rouges, Cléo les dés bleus. Qui a gagné ?

Première partie : _____ Deuxième partie : _____ Troisième partie : _____



b. Lise a marqué 24 points.

Quels dés a-t-elle tirés ? _____

c. Chloé a marqué 30 points en lançant les 2 dés.

Quels dés a-t-elle tirés ? _____

2 Multiplier, puis multiplier encore

a. Complète les 2 tableaux.

	$\times 2$	$\times 3$
4		
6		
7		
8		
10		
20		
25		
43		

	$\times 3$	$\times 2$
4		
6		
7		
8		
10		
20		
25		
43		

Qu' observes-tu ?

b. Coche la bonne case.

	Vrai	Faux
On passe de la première colonne à la troisième en multipliant par 6.		
Multiplier par 6, c'est doubler le triple.		
Doubler le triple, c'est tripler le double.		