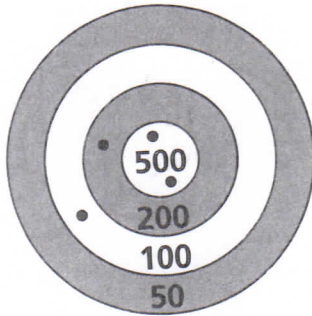


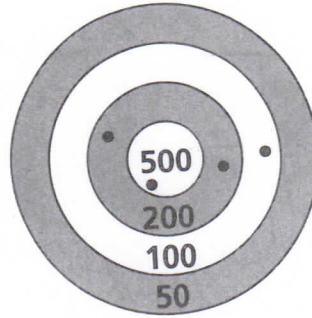
Prénom ..... Date .....

**1** Complète.



$500 + 500 + 200 + 100 = \dots$

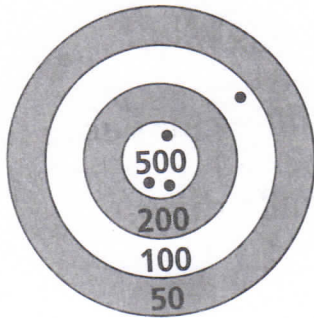
Tom a marqué ..... points.



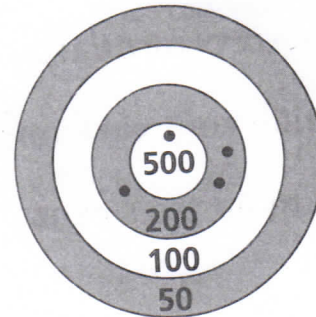
..... = .....

Coralie a marqué ..... points.


**2** Indique le score réalisé par chaque joueur.



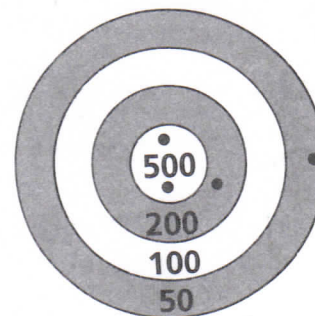
..... = .....



..... = .....



..... = .....



..... = .....

Prénom ..... Date .....

**1** Complète les cases.

**2** Écris en chiffres :

mille deux cent quarante : .....  
trois mille cent cinquante : .....  
quatre mille trois cent cinq : .....

deux mille : .....  
mille cinquante : .....  
mille dix : .....

**3** Combien ces deux commerçants ont-ils dans leur caisse ?